

4 класс
Контрольная работа
по технологии
2 четверть

Время выполнения: 40 минут

Выполни задания

1.Технология – это:

- а) знания о технике;
- б) последовательность операций по обработке материала для изготовления изделия;
- в) техническая характеристика изделия.

2. Напиши пословицу о труде. _____

3. Выбери и подчеркни строительные профессии:

Штукатур, библиотекарь, крановщик, маляр, изготовитель лекал, монтажник, геолог, буровик, кондитер

4.Каждой линии чертежа подбери ее название.

----- Основная линия видимого контура

////////////////////// Линия сгиба

_____ Место намазывания клеем

5.Фаянс – это одна из разновидностей

- 1. керамики
- 2. глины
- 3. стекла
- 4. пластмассы

6.Какое утверждение верно: нефтепровод – это...

- 1. цистерна
- 2. трубопровод для перекачки нефти и продуктов её переработки
- 3. вагон для хранения нефти
- 4. ничего из перечисленного

7. Для чего человеку служит повседневная обувь?

- 1. она защищает его от дождя, жары и холода
- 2. служит только для красоты
- 3. служит только для моды
- 4. ничего из перечисленного

8. Напиши названия машин, которые облегчают труд человека в быту? (не менее трёх) _____

9. Какой инструмент не используют при работе с древесиной?

А – рубанок В – лобзик Б – ножницы Г-столярный нож

10. Распредели материалы, инструменты по группам: кисти, стеки, картон, игла, нитки ножницы, пластилин, краски,

Материалы	Инструменты
------------------	--------------------

11. Узнай и запиши названия материалов по их свойствам:

а) гладкая, тонкая, мнётся, складывается, не тянется, разноцветная – это _____

б) плотный, плохо гнётся, не мнётся, не тянется, служит фоном для аппликации – это _____

в) разноцветный, при нагревании размягчается, пластичный – это _____

12. Выбери правильный ответ (отметь его галочкой).

Смазывать детали клеем следует, разложив их на:

- Клеенке или газете
- Подкладном листе
- Изнаночной стороне картона

При работе с булавками следует:

- Класть булавки на стол
- Хранить булавки в игольнице
- Втыкать булавки в одежду

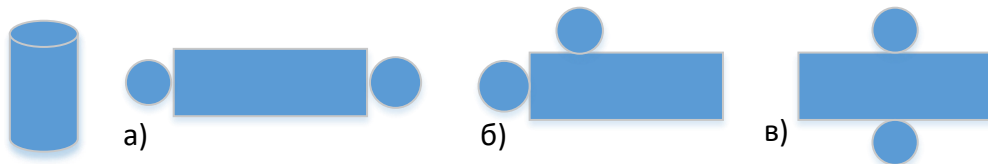
Шаблон на материале необходимо размещать:

- Как можно ближе к краю материала
- По центру материала
- Выходящим за края материала

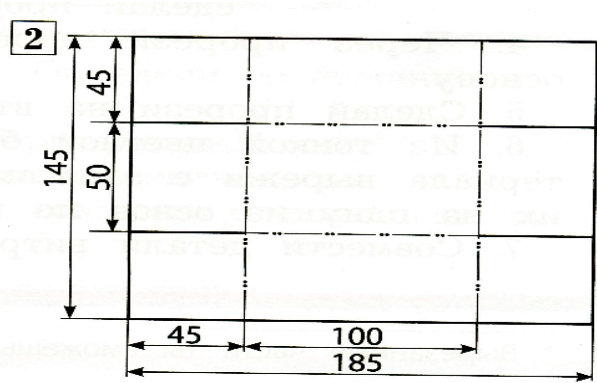
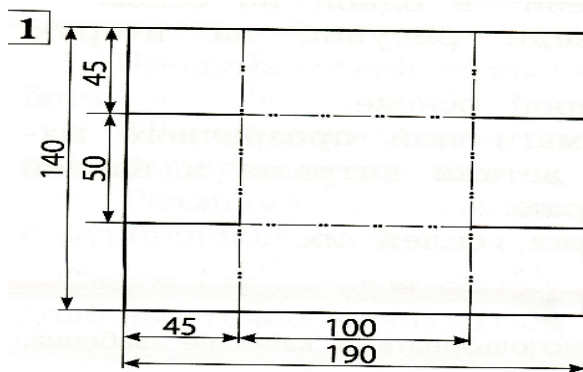
13. Установи правильную последовательность работы над мягкой игрушкой.

- подбор материала и подготовка его к работе
- создание объёмной формы отдельных деталей
- разметка деталей
- отделка (оформление) изделия
- сборка изделия
- раскрой деталей

14. Какая развёртка соответствует фигуре?



15. Отметь номер развёртки коробки, в которой все размеры указаны верно.



Нормы оценок

№ задания	Баллы Макс. Баллов-21
1	1 балл
2	1 балл за правильное выполнение задания
3	Макс.2 балла За 3 правильных ответа,1балл за 2 ответа.
4	1 балл
5	1 балл
6	1 балл
7	1 балл
8	3 балла , 1 балл за каждый правильный ответ.
9	1 балл
10	2 балла, 1-2ошибки 1балл
11	3 балла,за каждый правильный ответ по 1 баллу.
12	1 балл

13	1 балл
14	1 балл
15	1 балл

21 балл – «5»

15-20 баллов – «4»

9-14 баллов – «3»

Менее 9 баллов – «2»

